

**Caro (a) aluno (a), a Secretaria de Estado da Educação quer melhorar o ensino no nosso Estado. Você pode ajudar respondendo a PROVINHA BRASIL. Sua participação é muito importante. Obrigado!**

## PROVINHA BRASIL – MATEMÁTICA

Nome da Unidade de Ensino

Nome do (a) Aluno (a)


Turma

### Questão-exemplo

- ✓ Esta é a questão-exemplo que você (Coordenador (a) aplicador (a)) deverá resolvê-la junto com os (as) alunos (as).
- ✓ Leia somente a instrução em que aparece o megafone. Repita a leitura, no máximo, duas vezes.
- ✓ Perceba que você **NÃO** deverá ler as opções de resposta para os alunos (as), pois não aparece o megafone.



Veja na figura as bonequinhas que Maria tem em seu quarto.





Faça um **X** no quadradinho que indica quantas bonequinhas Maria tem.


- A.  6
- B.  8
- C.  7
- D.  9

- ✓ Verifique se todos os alunos (as) compreenderam como devem marcar a resposta.

### Questão 1


 Marcos comprou um carrinho e pagou a quantia abaixo:





 Marque um X no quadradinho que mostra quanto Marcos pagou pelo carrinho.





- A.  5 REAIS
- B.  2 REAIS
- C.  10 REAIS
- D.  20 REAIS

### Questão 2

 Veja as figuras que Ana desenhou.



 Faça um X na figura que mostra o triângulo.

- A.  
- B.  
- C.  
- D.  

**Questão 3**

Veja a tabela que mostra os pontos que as crianças fizeram nas olimpíadas da escola.

Faça um **X** no quadradinho de quem fez 4 pontos na natação.

- A.
- B.
- C.
- D.

**RESULTADO DAS OLIMPÍADAS**

	 VÔLEI	 FUTEBOL	 NATAÇÃO
	5	2	3
	3	5	2
	1	3	4
	2	1	5

**Questão 4**

Marcos tinha 11 carrinhos.

Hoje comprou outros 7 carrinhos.

Marque um **X** no quadradinho que mostra o número de carrinhos que Marcos tem ao todo.

- A.  4
- B.  18
- C.  11
- D.  7

**Questão 5**



Um carro tem quatro pneus.



Marque um **X** no quadradinho que mostra quantos pneus têm cinco carros.

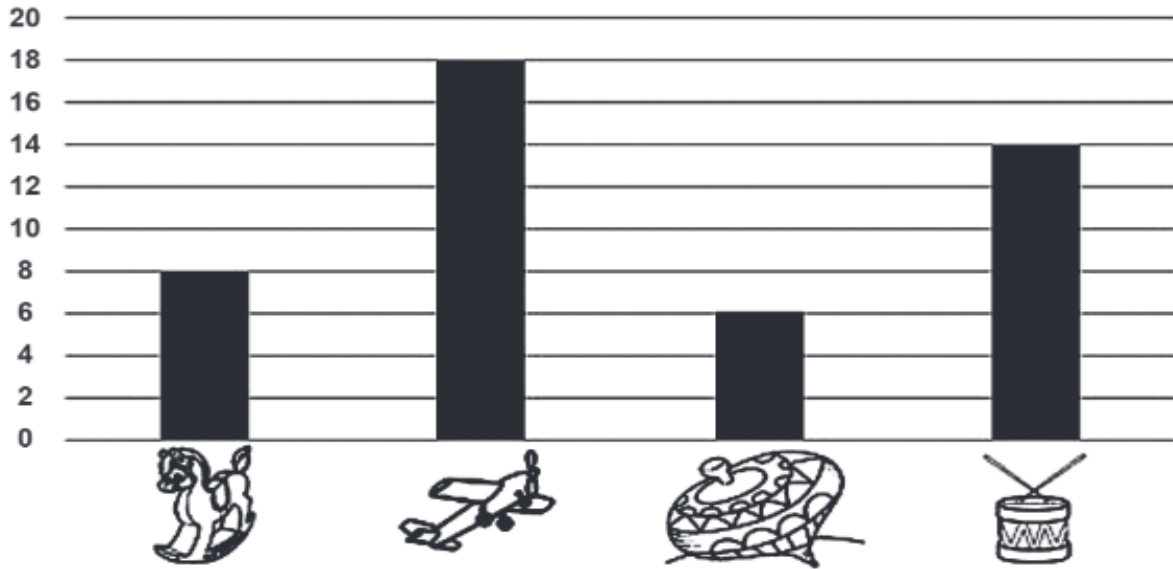
- A.  4
- B.  5
- C.  9
- D.  20

**Questão 6**



Veja o gráfico que mostra a quantidade de brinquedos vendidos por uma loja.

**BRINQUEDOS VENDIDOS PELA LOJA**



Faça um X no quadradinho que mostra o brinquedo mais vendido pela loja.

- A.
- B.
- C.
- D.

**Questão 7**



Maria colou em seu caderno estas figuras.



Faça um X no quadradinho que mostra a figura que lembra um cilindro.

A.



B.



C.



D.



**Questão 8**



Veja o relógio do pai de José.



Marque um **X** no quadradinho que indica o horário marcado no relógio do pai de José.



A.  11 HORAS.



B.  30 MINUTOS.



C.  30 HORAS E 11 MINUTOS.

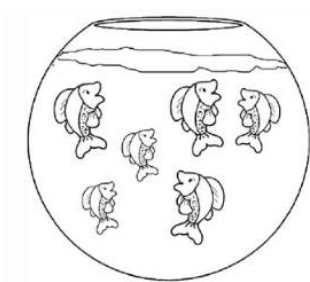


D.  11 HORAS E 30 MINUTOS.

**Questão 9**



O aquário tem seis peixes.



Faça um **X** no quadradinho do número que corresponde à metade desses peixes.


A.  6


B.  3

C.  2


D.  12

**Questão 10**

 Faça um **X** no quadradinho da galinha que tem mais pintinhos.



**Questão 11**

 Faça um **X** no quadradinho que mostra a cédula de dois reais.

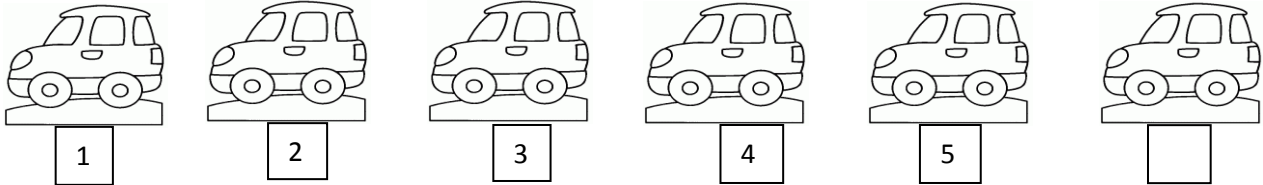




### Questão 12



Veja como Guilherme organizou sua coleção de carrinhos usando os números em sequência crescente.




Faça um X no quadradinho do número que o último carrinho deve ter para completar a sequência.

- A.  5
- B.  2
- C.  6
- D.  4

### Questão 13



Bruno tem 7 brinquedos e Bruna tem o dobro desta quantidade de brinquedos.



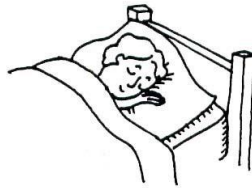
Faça um X no quadradinho que representa a quantidade de brinquedos de Bruna.

- A.  7
- B.  4
- C.  3
- D.  14

**Questão 14**



Veja a figura.





Faça um X no quadradinho que mostra no relógio digital a hora em que Marcos vai dormir.



**Questão 15**



Veja os animais que Ana viu no sítio da vovó.



Faça um X no quadradinho do número que representa o total de animais vistos por Ana no sítio da vovó.


A.  8


B.  9

C.  10

D.  7


### Questão 16

 O avô de Marcelo tem oitenta e nove anos.


 Faça um **X** no quadradinho que indica a idade do avô de Marcelo.

- A.  809
- B.  98
- C.  89
- D.  908

### Questão 17

 Em cada casinha moram 2 cachorrinhos.



 Faça um **X** no quadradinho que mostra o total de cachorrinhos que moram nas três casinhas.

- A.  2
- B.  3
- C.  5
- D.  6

**Questão 18**



Adriano distribuiu igualmente estes sorvetes para cinco amiguinhos.




Faça um X no quadradinho que mostra quantos sorvetes cada amigo recebeu.

- A.  10
- B.  5
- C.  2
- D.  20

**Questão 19**



Veja as frutas que Dona Maria tem.



Marque um X no quadradinho que mostra as frutas que Dona Maria tem em mesma quantidade.

- A.
- B.
- C.
- D.

**Questão 20**



Veja as bolas.



Faça um X no quadradinho da bola maior.

- A.
- B.
- C.
- D.

**SUCESSO!**