

Caro (a) aluno (a), a Secretaria de Estado da Educação quer melhorar o ensino no nosso Estado. Você pode ajudar respondendo a PROVINCIA BRASIL. Sua participação é muito importante. Obrigada!

2º ANO DO ENSINO FUNDAMENTAL

PROVINHA BRASIL – MATEMÁTICA

Nome da Unidade de Ensino

Nome completo do (a) Aluno (a)


Turma

Questão-exemplo

- ✓ Esta é a questão-exemplo que você professor (a) aplicador (a) deverá resolver junto com os (as) alunos (as).
- ✓ Leia somente a instrução em que aparece o megafone. Repita a leitura, no máximo, duas vezes.
- ✓ Perceba que você **NÃO** deverá ler as opções de resposta para os (as) alunos (as), pois não aparece o megafone.



Veja na figura os ursinhos que Josefa tem em seu quarto.



Faça um **X** no quadradinho que indica quantos ursinhos Josefa tem.

- A. 6
- B. 8
- C. 7
- D. 9

- ✓ Verifique se todos os (as) alunos (as) compreenderam como devem marcar a resposta.

Questão 1

Maria coleciona adesivos de dinossauros:



Faça um **X** no quadradinho de adesivos de Maria que tem o formato de um círculo.

- A.
- B.
- C.
- D.

Questão 2

Bruno coleciona moedas.







Faça um **X** no quadradinho que indica o número de moedas da coleção de Bruno.


- A. 8
- B. 9
- C. 10
- D. 11

Questão 3

 Faça um **X** no quadradinho do peixe mais comprido.

- A. 
- B. 
- C. 
- D. 

Questão 4

 Faça um **X** no quadradinho que representa a nota de cinquenta reais.





- A. 
- B. 
- C. 
- D. 

Questão 5

Veja o sorvete.



Faça um **X** no quadradinho que mostra a figura geométrica espacial que lembra a casquinha deste sorvete.

- A. 
- B. 
- C. 
- D. 

Questão 6

A professora escreveu no quadro o número cinquenta e oito.




CINQUENTA E OITO

Faça um **X** no quadradinho que indica este número.





- A. 85
- B. 508
- C. 58
- D. 850

Questão 7




Veja a quantidade de animais de uma fazenda.

ANIMAIS DE UMA FAZENDA	
ANIMAIS	NÚMERO DE ANIMAIS
	18
	20
	15
	25

Faça um **X** no quadradinho que indica o animal que existe em menor quantidade.


- A. 
- B. 
- C. 
- D. 

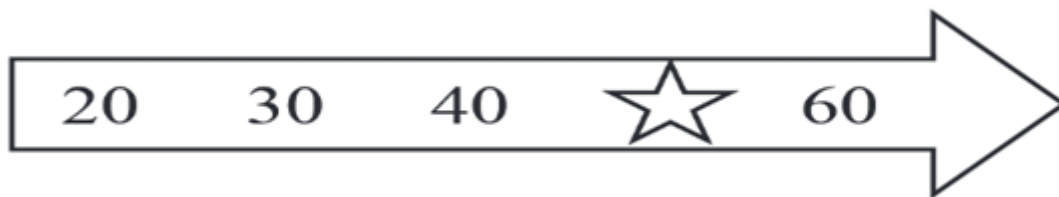
Questão 8


-  Valter tinha sete brinquedos.
-  Ele perdeu dois brinquedos.
-  Faça um **X** no quadradinho que indica com quantos brinquedos Valter ficou.

- A. 7
- B. 2
- C. 9
- D. 5

Questão 9

-  Os números na seta estão organizados de 10 em 10, em ordem crescente.




-  Faça um **X** no quadradinho que indica o número que deve estar no lugar da estrela.

- A. 41
- B. 50
- C. 40
- D. 59

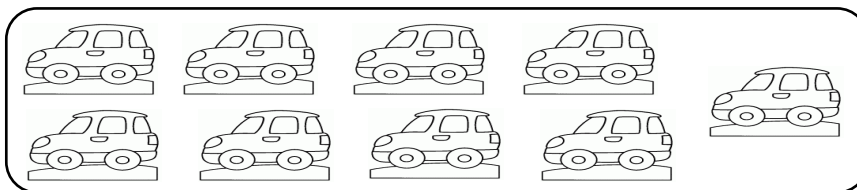
Questão 10

Veja a quantidade de carrinhos de José.




Faça um **X** no quadradinho que mostra esta mesma quantidade de carrinhos.


A.




B.




C.





D.



Questão 11


 Mariana preparou doces para o lanche. Depois de comer uma parte deles, sobrou a metade na bandeja.




 Faça um **X** no quadradinho que representa a quantidade de doces que Mariana preparou para o lanche.

- A. 6
- B. 3
- C. 2
- D. 5

Questão 12


 A professora Paula corrigiu 9 trabalhos de Português e 13 de Matemática.

 Faça um **X** no quadradinho que indica quantos trabalhos de Português foram corrigidos a menos do que os de Matemática.

- A. 9
- B. 21
- C. 4
- D. 22

Questão 13

O gráfico mostra o número de pontos que cada jogador marcou em um jogo de boliche.



Faça um X no quadradinho do jogador que marcou exatamente 12 pontos.

- A.
- B.
- C.
- D.

Questão 14

Veja a moeda de Ana.



Faça um **X** no quadradinho que mostra as moedas que juntas têm esse mesmo valor.

A.	<input type="checkbox"/>			
B.	<input type="checkbox"/>			
C.	<input type="checkbox"/>			
D.	<input type="checkbox"/>			

Questão 15

Veja a quantidade de tomates que a mãe de Judite usa para fazer o molho de uma pizza.




A mãe de Judite vai fazer 2 pizzas.

Faça um **X** no quadradinho que indica o número de tomates que serão utilizados ao todo.


- A. 6
- B. 3
- C. 9
- D. 5

Questão 16

 Veja os dias de sábados no calendário.


Janeiro 2017

Domingo	Segunda-feira	Terça-feira	Quarta-feira	Quinta-feira	Sexta-feira	Sábado
1	2	3	4	5	6	7
8	9	10	11	12	13	14
15	16	17	18	19	20	21
22	23	24	25	26	27	28
29	30	31	©2015 Michel Zbinden. Todos os direitos reservados.			
MichelZbinden.com						


 Faça um **X** no quadradinho que mostra quantos sábados este mês tem.

- A. 7
- B. 1
- C. 5
- D. 4

Questão 17

 Rodrigo tem 15 bolinhas de gude para guardar igualmente em 3 saquinhos.




 Faça um **X** no quadradinho que mostra quantas bolinhas de gude serão guardadas em cada saquinho.

- A. 15
- B. 3
- C. 5
- D. 18

Questão 18

Observe a quantidade de balões de Saulo.



Estouraram alguns e ele ficou com 6 balões

Marque um **X** no quadradinho que indica quantos balões estouraram.

- A. 10
- B. 4
- C. 6
- D. 16

Questão 19


Observe o número de dias de gestação de alguns animais.

63 DIAS 19 DIAS 30 DIAS 284 DIAS


Faça um **X** no quadradinho que indica o animal com gestação de 1 mês.


- A.
- B.
- C.
- D.

Questão 20

 Veja os cachorros de Sabrina.



 Fabiana tem o dobro dessa quantidade de cachorros.

 Marque um **X** no quadradinho que mostra o número de cachorros de Fabiana.

- A. 8
- B. 4
- C. 2
- D. 6